

Итоговая работа по окружающему миру 2 класс

1. Какие из перечисленных аппаратов учёные используют для изучения подводных обитателей?

Обведи буквы правильных ответов.

А. Аэростат.

Б. Акваланг.

В. Батискаф.

Г. Вездеход.

2. Допиши предложение.

Третья планета от Солнца —

_____.

3. Что такое Венера? Обведи букву ответа.

А. Комета.

Б. Планета.


В. Спутник.

Г. Звезда.

4. Допиши предложение.

Земля движется вокруг _____.

5. Контуры какого материка изображены на рисунке?




Ответ: _____.

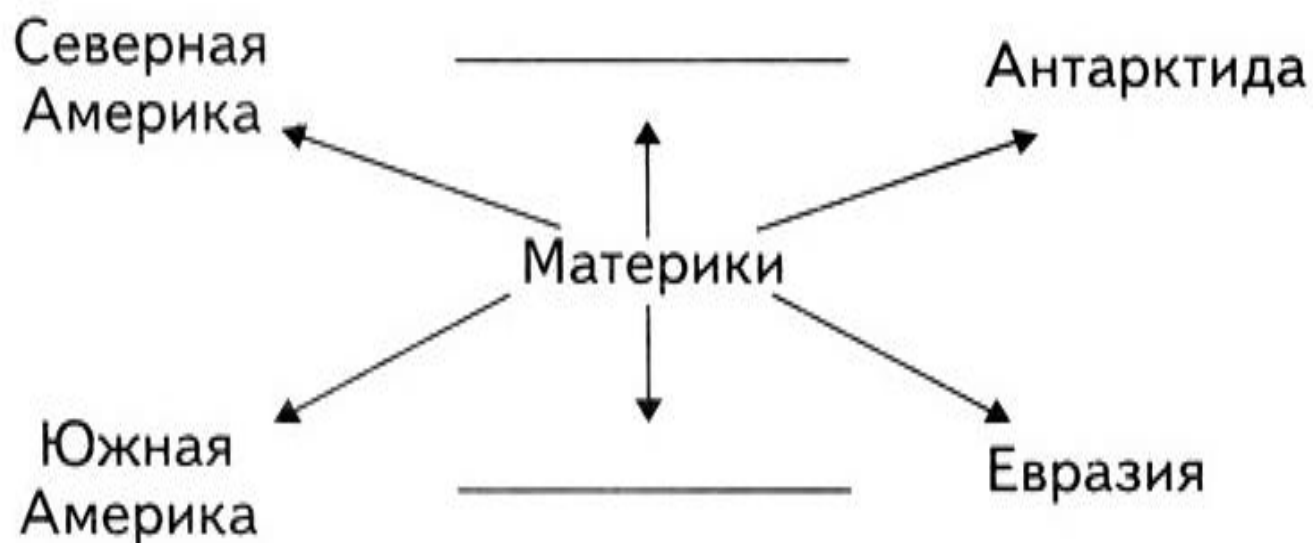
6. Какую температуру показывает термометр? Запиши: _____.

В какое время года бывает такая температура воздуха?

Ответ: _____.



7. Дополни схему.



8. Почему космонавты могут находиться на Луне только в скафандре? Обведи букву ответа.

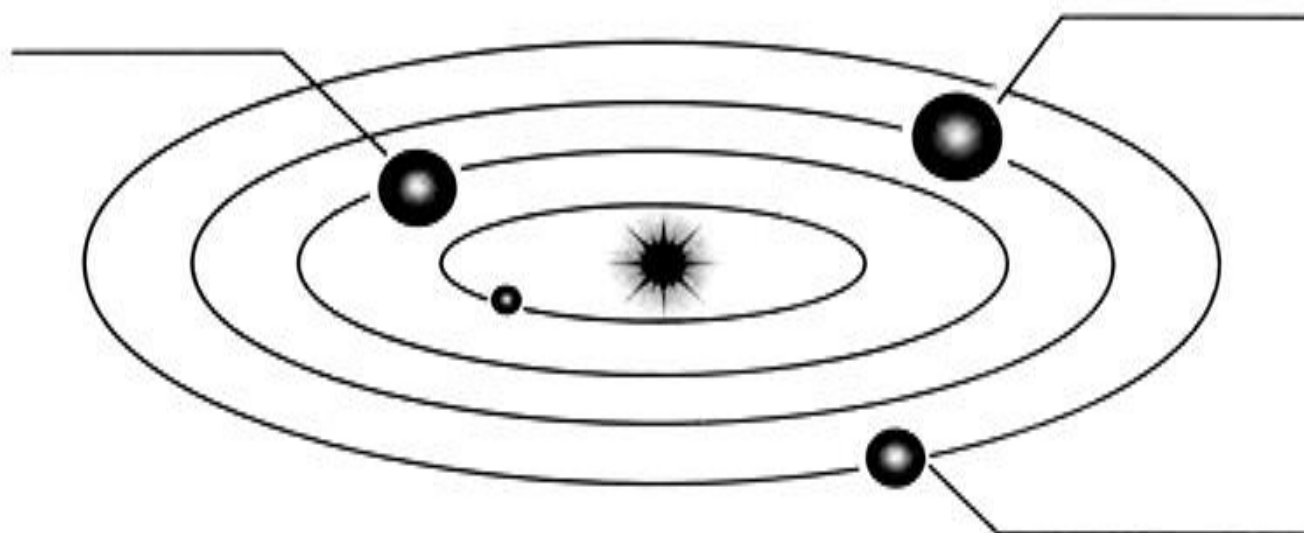
- А. На Луне много впадин.
- Б. На Луне нет воздуха.
- В. Поверхность Луны каменистая.
- Г. На Луне часто идут дожди.

9. Кто впервые совершил выход в открытый космос?

Ответ: _____ .

В каком разделе учебника ты сможешь проверить свой ответ? Напиши _____ .

10. Подпиши на схеме названия планет.



11. Найди и исправь ошибку.

Луна — спутник Солнца.

12. Буквой К отметь технику, которая используется в космосе, а буквой В — технику, которая используется в воздушном пространстве.

